



Vardas: _____

Data: _____



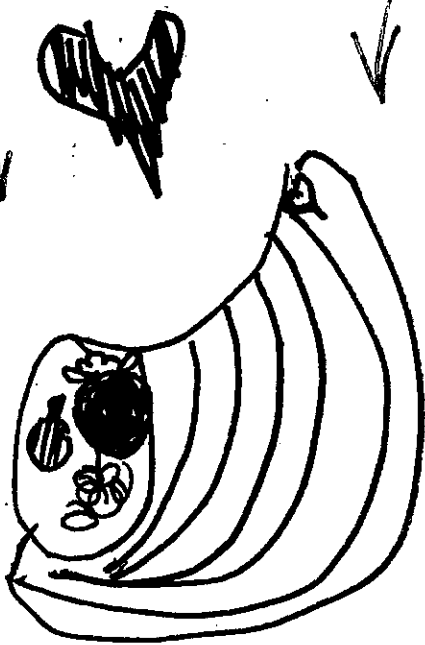

1. Atlik užduotis prisegtuose lapuose.

2. Vadovėlyje „Aš - Pirmokas“ perskaityk 37 puslapi.


3. Pratybų sąsiuvinyje „Aš - Pirmokas“ atlik 33 puslapi.

4. Ant kojytės-kepurytė. Kas? _____

5. Ar viską turi kuprinėje? Pasitikrink



RASK DU VIENODUS DAIKTUS IR IŠBRAUK.

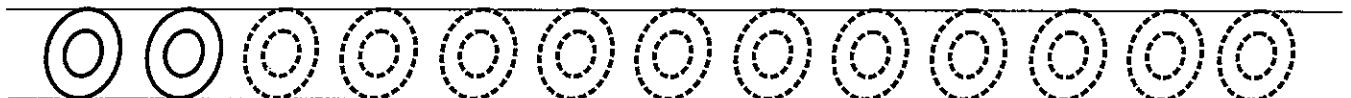


IŠ LIKUSIŲ PAVEIKSLĖLIŲ PIRMŲJŲ RAIDŽIŲ SUDĖK ŽODĮ IR UŽRAŠYK.

--	--	--	--	--	--

ATSAKYMAS „RAIDĖS“

BAIK RAŠYTI.



Kieme žaidė 2 berniukai.

Atėjo dar 1..

Kiek berniukų yra dabar?



$$\square + \square = \square$$

Sugalvok ir išspręsk panašų uždavinį apie 2 ir 2 mergaites:

$$\square + \square = \square$$

Apibrauk tuos skaičius, kurie atsako į klausimus.


Kiek ežiukų atėjo į mokyklą?

2 3 4

Dar turi ateiti 4 ežiukai.

Kiek ežiukų lanko mokyklą?

4 6 8




Ežys sode rado 5 obuolius.

3 obuolius parsinešė namo.





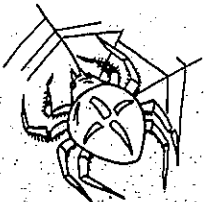
Kiek obuolių liko?

$$\square - \square = \square$$



Iš jų sudėk paveikslėlių pavadinimus.
Kai išmoksi sudėti be klaidų, priklijuok.



	m				
				a	
		ė			
					s
		o			



u	a	s	r	s	ė
j	v	ū	s	r	j
v	k	o	u	a	š